

2018~2019 学年度上学期期中教学质量检测
小学四年级数学试卷

(满分: 100 分 时间: 80 分钟)

题号	一	二	三	四	五	六	总分
得分							

一、轻松自如,填一填(每空 1 分,共 31 分)

得分	评卷人

- 1、两千零八十亿零八百七十万写作(),把它改写成以“万”作单位的数是(),四舍五入到“亿”位是()。
- 2、经过一点可以画()条直线,经过两点可以画()条直线。
- 3、比最小的五位数小 1 的数是(),比最大的六位数大 1 的数是()。
- 4、钟面上()时整的时候,时针和分针成平角。
- 5、12 个 125 的和是()。108 的 12 倍是()。
- 6、将一张圆形的纸对折,再对折,得到的角是()度。
- 7、把下面各数从大到小排列:9006 万 96000 9007 万 9060 万
() > () > () > ()
- 8、()个一百万是一千万;十亿里面有()个亿。
- 9、用 3 个 5 和 3 个 0 组成一个六位数:只读出一个零的六位数是();
读出两个零的六位数是();组成最小的六位数是()。
- 10、当两条直线相交成()时,这两条直线互相垂直。
- 11、在○里填上“<”、“>”或“=”。(6 分)
- 42 万○4200 230×30○23×300
- 5 万米○50000 米 19×600○200×60
- 20 吨○2000 千克 812×21○398×39
- 12、将下面的数改写成以“万”或“亿”为单位的数。
- 800000000=()亿 5400000=()万

13、先观察,再填空。

$1 \times 9 = 9$
 $21 \times 9 = 189$
 $321 \times 9 = 2889$
 $4321 \times 9 = ()$
 $() \times 9 = 488889$

得分	评卷人

二、火眼金睛,判一判(对的打“√”,错的打“×”,每小题 1 分,共 10 分)

- 1、个位、十位、百位、千位都是个级的计数单位。()
- 2、读含有三个数级的数时,先读个级,再读万级,最后读亿级。()
- 3、两条线段同样长,这两条线段就一定互相平行。()
- 4、使用计算器计算时,如果发现输入的数据不正确可以用计算器上的 OFF 键清除。()
- 5、十万步大约在 400 米的跑道上走 150 圈。()
- 6、两个锐角的度数和一定小于一个钝角的度数。()
- 7、一条直线的长度为 8 厘米。()
- 8、手电筒和探照灯射出的光线可以看做是直线。()
- 9、十字路口的斑马线是平行线。()
- 10、用放大 10 倍的放大镜看 15° 的角,这个角就变成 150° 。()

三、对号入座,选一选(每小题 1 分,共 10 分)

得分	评卷人

- 1、385400 中的“8”表示 8 个()。
- A、十万位 B、十万 C、万
- 2、 820×350 的积是 82×35 的积的()倍。
- A、10 B、100 C、1000
- 3、下面的数,()是精确数。
- A、神舟六号载人飞船绕地球飞行约 80 圈。 B、我们班有 56 人。
- C、笑笑每天睡眠时间约 9 小时。 D、我国约有人口 1400000000 人。
- 4、()可量出长度,()是两端无限延长的,无法量出长度。
- A、直线 B、线段 C、射线

座位号	
-----	--

5、过直线外一点画已知直线的垂线可以画()条。

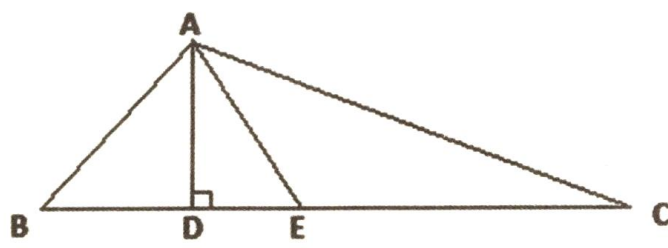
- A、1 B、2 C、3 D、无数条

6、 $39\square815\approx39$ 万, \square 里最大能填()

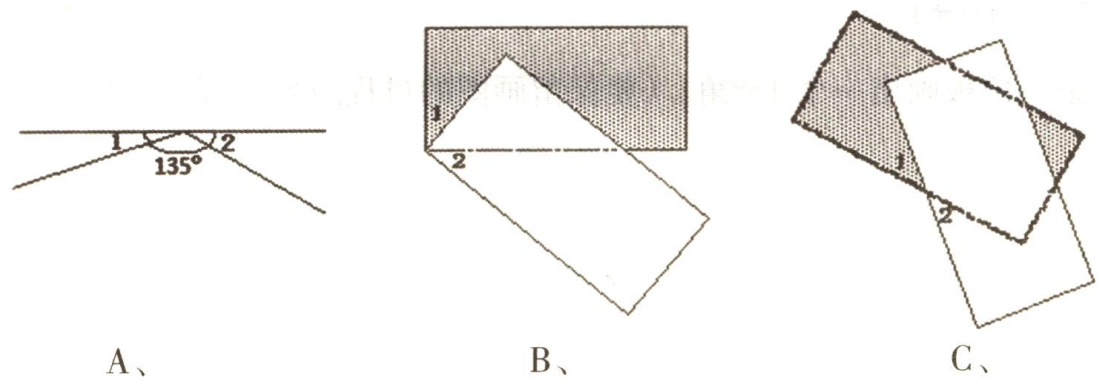
- A、9 B、5 C、4 D、0

7、下图中,A 点到线段 BC 的线段中,最短的是()。

- A、AB B、AD C、AE D、AC



8、下面各图中 $\angle 1$ 和 $\angle 2$ 度数不一定相等的是()。



- A、
B、
C、
9、用乘数的十位去乘被乘数,得数的末位要和乘数的()位对齐。
A、个位 B、十位 C、百位

10、估算 198×202 ,可按()算式进行计算最简便又接近计算结果。

- A、 190×200 B、 200×200 C、 200×300

四、看清题目,算一算。(共 13 分)

1、直接写出结果。(5 分)

$500\times40=$ $22\times40=$ $60\times50\times0=$ $28\times6+5=$ $306\div6=$
 $25\times40=$ $11\times300=$ $28\times50=$ $47\times8+6=$ $214\times3=$

得 分	评卷人

2、用竖式计算。(8 分)


(1) $68\times34=$ (2) $208\times25=$

(3) $760\times54=$ (4) $28\times473=$


五、作图题。(10 分)

(1)、用一副三角板画出一个 15° 角。(要保留画图的过程或列出算式)(2 分)


(2)、过点 A 画直线 a 的垂线,过点 B 画直线 m 的平行线。(2 分)



(3)、按要求在钟面上画出时针和分针,并读出钟面上的时间。(6分)



组成一个锐角
时间:()



组成一个钝角
时间:()



组成一个周角
时间:()

六、走进生活,试一试(共 26 分)

1、有一个六位数,把他四舍五入到万位是 40 万,这个数最大是多少? 最小是多少?(4 分)

2、某绿色蔬菜基地有卷心菜 102 棵,大白菜的棵树是卷心菜的 13 倍,这个基地有大白菜多少棵?(4 分)

3、水果店有 260 千克葡萄,卖出 15 筐,平均每筐装葡萄 13 千克,还剩多少千克?(4 分)

4、李老师带了 500 元钱去商场买了 18 个排球。
(1)售货员还应找回他多少元钱?(4 分)



(2)请你再提一个数学问题并解答。(5 分)

5、甲城到乙城的铁路线长 1325 千米,一列火车在早晨 6:00 从甲城出发,每小时行 105 千米,当天晚上 6:00 能否到达?(5 分)